

ISPIT

ZA DRŽAVNU MATURU

Geografija

Nacionalni centar za
vanjsko vrednovanje
obrazovanja



**Večernji
list**

**PRATI
RITAM
TVOG
DANA**

**UKUSNIJI,
KREMASTIJI,
JOŠ BOLJI...
NESCAFÉ 3in1**



3in1
Classic

NESCAFÉ®

NESCAFÉ®

Geografija

UPUTE

Pozorno slijedite sve upute.

Ne okrećite stranicu i ne rješavajte test dok to ne odobri dežurni nastavnik.

Nalijepite identifikacijsku naljepnicu na sve ispitne materijale koje ste dobili u omotnici.

Ispit traje 90 minuta bez prekida.

Zadatci se nalaze u dvjema ispitnim knjižicama.

Redoslijed rješavanja birajte sami.

Dobro rasporedite vrijeme kako biste mogli riješiti sve zadatke.

Ispred svake skupine zadataka je uputa za njihovo rješavanje.

Pozorno ju pročitajte.

Pišite jasno i čitljivo. Nečitki odgovori bodovat će se s nula (0) bodova.

Tijekom pisanja ispita dopušteno je rabiti kemijsku olovku plave ili crne boje.

Kada riješite test, provjerite svoje odgovore.

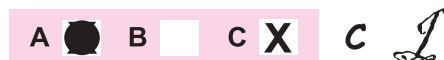
Želimo Vam puno uspjeha!

Način popunjavanja lista za odgovore


Dobro



Ispravljanje pogrešnoga unosa



Loše



Prepisani
točan
odgovor

Potpis
ili
paraf

GEO IK-1 D-S001



99

I. Zadatci višestrukoga izbora

U sljedećim zadatcima između četiriju ponuđenih trebate odabrati jedan odgovor. Odgovore obilježite znakom X i obvezno ih prepisite na list za odgovore. Svaki točan odgovor donosi 2 boda.

1. Koja od navedenih znanstvenih disciplina geografije primarno proučava prirodne elemente?

- A. demogeografija
- B. kartografija
- C. klimatologija
- D. urbana geografija

- A.
- B.
- C.
- D.

2. Na kojem od navedenih planeta Sunčeva sustava Sunce prividno izlazi na zapadu?

- A. na Zemlji
- B. na Veneri
- C. na Marsu
- D. na Neptunu

- A.
- B.
- C.
- D.

3. Kako se nazivaju izolinije koje na karti povezuju mjesta istoga saliniteta?

- A. izoseiste
- B. izohaline
- C. izoterme
- D. izobare

- A.
- B.
- C.
- D.

4. Kojoj skupini stijena prema postanku pripada nafta?


- A. intruzivnim magmatskim
- B. kemogenim sedimentnim
- C. efuzivnim magmatskim
- D. biogenim sedimentnim

- A.
- B.
- C.
- D.


GEO IK-1 D-S001




01


<p>5. Koji kontinent ima najviše stope porasta broja stanovnika u posljednjih deset godina?</p> <p>A. Afrika B. Azija C. Europa D. Južna Amerika</p>	<p>A. <input type="checkbox"/> B. <input type="checkbox"/> C. <input type="checkbox"/> D. <input type="checkbox"/></p>
<p>6. Za koji su podtip općega kretanja stanovništva karakteristična sljedeća obilježja: prirodna promjena od 1 promila, stopa neto migracija od –4 promila?</p> <p>A. za emigraciju B. za depopulaciju C. za izrazitu depopulaciju D. za izumiranje</p>	<p>A. <input type="checkbox"/> B. <input type="checkbox"/> C. <input type="checkbox"/> D. <input type="checkbox"/></p>
<p>7. Koji izvor energije ima najveći udio u svjetskoj potrošnji energije u 21. stoljeću?</p> <p>A. energija vjetra B. energija vode (riječne i morske) C. nuklearna goriva D. ugljen (kameni i smeđi)</p>	<p>A. <input type="checkbox"/> B. <input type="checkbox"/> C. <input type="checkbox"/> D. <input type="checkbox"/></p>
<p>8. Koja je od navedenih grana prometa imala u 19. stoljeću važnu ulogu u povezivanju istočne i zapadne obale SAD-a?</p> <p>A. pomorski promet B. cestovni promet C. željeznički promet D. zračni promet</p>	<p>A. <input type="checkbox"/> B. <input type="checkbox"/> C. <input type="checkbox"/> D. <input type="checkbox"/></p>
<p>9. U kojem je od navedenih gradova potpisan ugovor o osnivanju Europske Unije?</p> <p>A. u Rimu B. u Maastrichtu C. u Parizu D. u Bruxellesu</p>	<p>A. <input type="checkbox"/> B. <input type="checkbox"/> C. <input type="checkbox"/> D. <input type="checkbox"/></p>
<p>GEO IK-1 D-S001</p> <div style="text-align: right;">  01 </div>	

Geografija

<p>10. Koji je od navedenih gradova najveće financijsko središte Azije?</p> <p>A. Beijing B. Tokyo C. Singapur D. Hong Kong</p>	<p>A. <input type="checkbox"/> B. <input type="checkbox"/> C. <input type="checkbox"/> D. <input type="checkbox"/></p>
<p>11. Koja je zemlja stalna članica Vijeća sigurnosti OUN-a i skupine G8?</p> <p>A. Ruska Federacija B. Japan C. Kanada D. Kina</p>	<p>A. <input type="checkbox"/> B. <input type="checkbox"/> C. <input type="checkbox"/> D. <input type="checkbox"/></p>
<p>12. Koji je od navedenih gradova smješten u regiji Kanto?</p> <p>A. Tokyo B. Nagoya C. Osaka D. Hiroshima</p>	<p>A. <input type="checkbox"/> B. <input type="checkbox"/> C. <input type="checkbox"/> D. <input type="checkbox"/></p>
<p>13. Koje od navedenih gradova povezuje koridor V.c?</p> <p>A. Trst, Rijeka, Zagreb, Varaždin B. Ljubljana, Zagreb, Beograd, Istanbul C. Budimpešta, Osijek, Sarajevo, Ploče D. Varaždin, Karlovac, Split, Dubrovnik</p>	<p>A. <input type="checkbox"/> B. <input type="checkbox"/> C. <input type="checkbox"/> D. <input type="checkbox"/></p>
<p>14. Što je od navedenoga Moslavačka gora?</p> <p>A. antiklinorij B. sinklinorij C. tektonska graba D. horst</p>	<p>A. <input type="checkbox"/> B. <input type="checkbox"/> C. <input type="checkbox"/> D. <input type="checkbox"/></p>
<p>GEO IK-1 D-S001</p>	 01

<p>15. U kojoj je od navedenih regija najznačajnije hrvatsko nalazište prirodnoga plina?</p> <p>A. u Baranji B. u Srijemu C. u Podravini D. u Posavini</p>	<p>A. <input type="checkbox"/> B. <input type="checkbox"/> C. <input type="checkbox"/> D. <input type="checkbox"/></p>
<p>16. Kojom je međunarodnom organizacijom Hrvatska predsjedavala u prosincu 2008. godine?</p> <p>A. Međunarodnim sudom OUN-a B. Vijećem sigurnosti OUN-a C. Vijećem Europe D. Ekonomskim i socijalnim vijećem OUN-a</p>	<p>A. <input type="checkbox"/> B. <input type="checkbox"/> C. <input type="checkbox"/> D. <input type="checkbox"/></p>
<p>II. Zadaci višestrukih kombinacija</p> <p>U sljedećim zadacima između pet ponuđenih trebate odabrati dva odgovora. Odgovore obilježite znakom X i obvezno ih prepišite na list za odgovore. Svaki točan odgovor donosi 2 boda.</p>	
<p>17. Koje su od navedenih tehničke naprave za orijentaciju?</p> <p>A. krivinomjer i higrograf B. GPS prijamnik i busola C. sonar i radar D. nivelman i teodolit E. anemometar i planimetar</p>	<p>A. <input type="checkbox"/> B. <input type="checkbox"/> C. <input type="checkbox"/> D. <input type="checkbox"/> E. <input type="checkbox"/></p>
<p>18. Koje su među navedenima posljedice epirogenetskih pokreta?</p> <p>A. boranje B. navlačenje C. rasjedanje D. regresija E. transgresija</p>	<p>A. <input type="checkbox"/> B. <input type="checkbox"/> C. <input type="checkbox"/> D. <input type="checkbox"/> E. <input type="checkbox"/></p>
<p>19. Koji su od navedenih društveni čimbenici razvoja poljoprivrede?</p> <p>A. nagib padine 2° B. 5% visokoobrazovanoga stanovništva C. 600 mm padalina D. posjed od 30 hektara E. srednja godišnja temperatura zraka 12 °C</p>	<p>A. <input type="checkbox"/> B. <input type="checkbox"/> C. <input type="checkbox"/> D. <input type="checkbox"/> E. <input type="checkbox"/></p>
<p>20. Koje se od navedenih industrija razvijaju od prve industrijske revolucije?</p> <p>A. automobilska B. kožarska C. farmaceutska D. tekstilna E. petrokemijska</p>	<p>A. <input type="checkbox"/> B. <input type="checkbox"/> C. <input type="checkbox"/> D. <input type="checkbox"/> E. <input type="checkbox"/></p>
<p>GEO IK-1 D-S001</p> <div style="text-align: right;">  01 </div>	

Geografija

<p>21. Koje se od navedenih prirodnih regija nalaze u Ujedinjenome Kraljevstvu?</p> <p>A. Bretanja B. Peninsko gorje C. Apulija D. Taunus E. Kambrijsko gorje</p>	<p>A. <input type="checkbox"/> B. <input type="checkbox"/> C. <input type="checkbox"/> D. <input type="checkbox"/> E. <input type="checkbox"/></p>
<p>22. Koja su od navedenih urbanih i gospodarskih središta Australije smještena najjužnije?</p> <p>A. Adelaide B. Canberra C. Hobart D. Melbourne E. Perth</p>	<p>A. <input type="checkbox"/> B. <input type="checkbox"/> C. <input type="checkbox"/> D. <input type="checkbox"/> E. <input type="checkbox"/></p>
<p>23. Koja su od navedenih klimatsko-vegetacijskih obilježja karakteristična za najviše planinske dijelove Gorske Hrvatske?</p> <p>A. biljna zajednica bukove šume B. godišnja količina padalina <1000 mm C. srednje siječanjske temperature od 0 do -2 °C D. srednje srpanjske temperature <18 °C E. temperaturna inverzija</p>	<p>A. <input type="checkbox"/> B. <input type="checkbox"/> C. <input type="checkbox"/> D. <input type="checkbox"/> E. <input type="checkbox"/></p>
<p>24. Koje od navedenih rijeka imaju estuarijska ušća?</p> <p>A. Zrmanja B. Rječina C. Raša D. Neretva E. Cetina</p>	<p>A. <input type="checkbox"/> B. <input type="checkbox"/> C. <input type="checkbox"/> D. <input type="checkbox"/> E. <input type="checkbox"/></p>
<p>GEO IK-1 D-S001</p>  <p>01</p>	

ZA SVAKI DŽEPARAC 7,50 kn



Hamburger



Shake 0,25l



Cheeseburger



Gazirano piće
0,25l



Pita od jabuke



Cappuccino



McSundae™
jagoda, čokolada, karamela

DŽEPARAC PLUS

NOVO!



Chickenburger

9,00 kn

NOVO!



Cheeseburger Fresh



i'm lovin' it®

III. Zadatci povezivanja i sređivanja

U sljedećim zadatcima svakoj čestici označenoj brojem pridružite odgovarajuću česticu označenu slovom.

Odgovore obilježite znakom X i obvezno ih prepisite na list za odgovore.

Svaki točan odgovor donosi 1 bod.

25. Jezerima pridružite načine postanka.

1. Bajkalsko jezero
2. Crveno jezero
3. Lago di Garda
4. Visovačko jezero

- A. tektonsko
- B. riječno-krško
- C. ledenjačko
- D. urušno-krško
- E. vulkansko

	A.	B.	C.	D.	E.
1.	<input type="checkbox"/>	<input type="checkbox"/>	<input type="checkbox"/>	<input type="checkbox"/>	<input type="checkbox"/>
2.	<input type="checkbox"/>	<input type="checkbox"/>	<input type="checkbox"/>	<input type="checkbox"/>	<input type="checkbox"/>
3.	<input type="checkbox"/>	<input type="checkbox"/>	<input type="checkbox"/>	<input type="checkbox"/>	<input type="checkbox"/>
4.	<input type="checkbox"/>	<input type="checkbox"/>	<input type="checkbox"/>	<input type="checkbox"/>	<input type="checkbox"/>

26. Vrstama tla pridružite karakteristične bioklimatske zajednice.

1. crnica
2. crvenica
3. laterit
4. podzol

- A. makija
- B. savana
- C. stepa
- D. tajga
- E. tundra

	A.	B.	C.	D.	E.
1.	<input type="checkbox"/>	<input type="checkbox"/>	<input type="checkbox"/>	<input type="checkbox"/>	<input type="checkbox"/>
2.	<input type="checkbox"/>	<input type="checkbox"/>	<input type="checkbox"/>	<input type="checkbox"/>	<input type="checkbox"/>
3.	<input type="checkbox"/>	<input type="checkbox"/>	<input type="checkbox"/>	<input type="checkbox"/>	<input type="checkbox"/>
4.	<input type="checkbox"/>	<input type="checkbox"/>	<input type="checkbox"/>	<input type="checkbox"/>	<input type="checkbox"/>

GEO IK-1 D-S001



05

27. Reljefnim oblicima pridružite odgovarajuće egzogene procese.

1. klif
2. barhana
3. cirk
4. škrapa

- A. egzaracija
- B. korozija
- C. akumulacija
- D. abrazija
- E. krioturbacija

	A.	B.	C.	D.	E.
1.	<input type="checkbox"/>	<input type="checkbox"/>	<input type="checkbox"/>	<input type="checkbox"/>	<input type="checkbox"/>
2.	<input type="checkbox"/>	<input type="checkbox"/>	<input type="checkbox"/>	<input type="checkbox"/>	<input type="checkbox"/>
3.	<input type="checkbox"/>	<input type="checkbox"/>	<input type="checkbox"/>	<input type="checkbox"/>	<input type="checkbox"/>
4.	<input type="checkbox"/>	<input type="checkbox"/>	<input type="checkbox"/>	<input type="checkbox"/>	<input type="checkbox"/>

28. Državama pridružite najzastupljenije religije.

1. Grčka
2. Indija
3. Španjolska
4. Tunis

- A. islam
- B. brahmanizam
- C. katolicizam
- D. pravoslavlje
- E. protestantizam

	A.	B.	C.	D.	E.
1.	<input type="checkbox"/>	<input type="checkbox"/>	<input type="checkbox"/>	<input type="checkbox"/>	<input type="checkbox"/>
2.	<input type="checkbox"/>	<input type="checkbox"/>	<input type="checkbox"/>	<input type="checkbox"/>	<input type="checkbox"/>
3.	<input type="checkbox"/>	<input type="checkbox"/>	<input type="checkbox"/>	<input type="checkbox"/>	<input type="checkbox"/>
4.	<input type="checkbox"/>	<input type="checkbox"/>	<input type="checkbox"/>	<input type="checkbox"/>	<input type="checkbox"/>

GEO IK-1 D-S001



05

Geografija

29. Kolonijalnim nazivima gradova pridružite današnje nazive.

1. Bombaj
2. Bangkok
3. Peking
4. Saigon

- A. Krung Thep
- B. Ho Chi Min
- C. Beijing
- D. Mumbai
- E. Angkor

	A.	B.	C.	D.	E.
1.	<input type="checkbox"/>	<input type="checkbox"/>	<input type="checkbox"/>	<input type="checkbox"/>	<input type="checkbox"/>
2.	<input type="checkbox"/>	<input type="checkbox"/>	<input type="checkbox"/>	<input type="checkbox"/>	<input type="checkbox"/>
3.	<input type="checkbox"/>	<input type="checkbox"/>	<input type="checkbox"/>	<input type="checkbox"/>	<input type="checkbox"/>
4.	<input type="checkbox"/>	<input type="checkbox"/>	<input type="checkbox"/>	<input type="checkbox"/>	<input type="checkbox"/>

30. Turističkim znamenitostima pridružite države u kojima se danas nalaze.

1. Aja Sofija
2. Glava šećera
3. Petronas tornjevi
4. Waikiki

- A. Bugarska
- B. Turska
- C. Brazil
- D. SAD
- E. Malezija

	A.	B.	C.	D.	E.
1.	<input type="checkbox"/>	<input type="checkbox"/>	<input type="checkbox"/>	<input type="checkbox"/>	<input type="checkbox"/>
2.	<input type="checkbox"/>	<input type="checkbox"/>	<input type="checkbox"/>	<input type="checkbox"/>	<input type="checkbox"/>
3.	<input type="checkbox"/>	<input type="checkbox"/>	<input type="checkbox"/>	<input type="checkbox"/>	<input type="checkbox"/>
4.	<input type="checkbox"/>	<input type="checkbox"/>	<input type="checkbox"/>	<input type="checkbox"/>	<input type="checkbox"/>

GEO IK-1 D-S001



05

31. Poluotocima pridružite države u kojima se većim dijelom nalaze.

1. Dekan
2. Kalifornija
3. Kamčatka
4. Krim

- A. Indija
- B. Ukrajina
- C. SAD
- D. Rusija
- E. Meksiko

	A.	B.	C.	D.	E.
1.	<input type="checkbox"/>	<input type="checkbox"/>	<input type="checkbox"/>	<input type="checkbox"/>	<input type="checkbox"/>
2.	<input type="checkbox"/>	<input type="checkbox"/>	<input type="checkbox"/>	<input type="checkbox"/>	<input type="checkbox"/>
3.	<input type="checkbox"/>	<input type="checkbox"/>	<input type="checkbox"/>	<input type="checkbox"/>	<input type="checkbox"/>
4.	<input type="checkbox"/>	<input type="checkbox"/>	<input type="checkbox"/>	<input type="checkbox"/>	<input type="checkbox"/>

32. Državama pridružite njihove bivše kolonije.

1. Francuska
2. Italija
3. Njemačka
4. UK

- A. Angola
- B. Namibija
- C. Kenija
- D. Etiopija
- E. Niger

	A.	B.	C.	D.	E.
1.	<input type="checkbox"/>	<input type="checkbox"/>	<input type="checkbox"/>	<input type="checkbox"/>	<input type="checkbox"/>
2.	<input type="checkbox"/>	<input type="checkbox"/>	<input type="checkbox"/>	<input type="checkbox"/>	<input type="checkbox"/>
3.	<input type="checkbox"/>	<input type="checkbox"/>	<input type="checkbox"/>	<input type="checkbox"/>	<input type="checkbox"/>
4.	<input type="checkbox"/>	<input type="checkbox"/>	<input type="checkbox"/>	<input type="checkbox"/>	<input type="checkbox"/>

GEO IK-1 D-S001



05

Geografija

33. Ruskim morskim lukama pridružite mora na čijim se obalama nalaze.

1. Murmansk
2. Novorosijsk
3. St. Petersburg
4. Vladivostok

- A. Bijelo more
- B. Crno more
- C. Baltičko more
- D. Japansko more
- E. Barentsovo more

	A.	B.	C.	D.	E.
1.	<input type="checkbox"/>	<input type="checkbox"/>	<input type="checkbox"/>	<input type="checkbox"/>	<input type="checkbox"/>
2.	<input type="checkbox"/>	<input type="checkbox"/>	<input type="checkbox"/>	<input type="checkbox"/>	<input type="checkbox"/>
3.	<input type="checkbox"/>	<input type="checkbox"/>	<input type="checkbox"/>	<input type="checkbox"/>	<input type="checkbox"/>
4.	<input type="checkbox"/>	<input type="checkbox"/>	<input type="checkbox"/>	<input type="checkbox"/>	<input type="checkbox"/>

34. Stranama svijeta pridružite krajnje točke hrvatskoga teritorija.

1. sjever
2. zapad
3. istok
4. jug

- A. Kneževi vinogradi (Beli Manastir)
- B. Rađevac (Ilok)
- C. Rt Lako (Savudrija)
- D. Rt Oštra (Prevlaka)
- E. Žabnik (Sv. Martin na Muri)

	A.	B.	C.	D.	E.
1.	<input type="checkbox"/>	<input type="checkbox"/>	<input type="checkbox"/>	<input type="checkbox"/>	<input type="checkbox"/>
2.	<input type="checkbox"/>	<input type="checkbox"/>	<input type="checkbox"/>	<input type="checkbox"/>	<input type="checkbox"/>
3.	<input type="checkbox"/>	<input type="checkbox"/>	<input type="checkbox"/>	<input type="checkbox"/>	<input type="checkbox"/>
4.	<input type="checkbox"/>	<input type="checkbox"/>	<input type="checkbox"/>	<input type="checkbox"/>	<input type="checkbox"/>

GEO IK-1 D-S001



05

35. Hidroelektranama pridružite pripadajuće rijeke.

1. Donja Dubrava
2. Manojlovac
3. Sklope
4. Zakučac

- A. Kupa
- B. Krka
- C. Lika
- D. Drava
- E. Cetina

	A.	B.	C.	D.	E.
1.	<input type="checkbox"/>	<input type="checkbox"/>	<input type="checkbox"/>	<input type="checkbox"/>	<input type="checkbox"/>
2.	<input type="checkbox"/>	<input type="checkbox"/>	<input type="checkbox"/>	<input type="checkbox"/>	<input type="checkbox"/>
3.	<input type="checkbox"/>	<input type="checkbox"/>	<input type="checkbox"/>	<input type="checkbox"/>	<input type="checkbox"/>
4.	<input type="checkbox"/>	<input type="checkbox"/>	<input type="checkbox"/>	<input type="checkbox"/>	<input type="checkbox"/>

36. Antičkim naseljima pridružite njihove današnje nazive.

1. Epidaurus
2. Marsonia
3. Mursa
4. Parentium

- A. Dubrovnik
- B. Osijek
- C. Poreč
- D. Cavtat
- E. Slavonski Brod

	A.	B.	C.	D.	E.
1.	<input type="checkbox"/>	<input type="checkbox"/>	<input type="checkbox"/>	<input type="checkbox"/>	<input type="checkbox"/>
2.	<input type="checkbox"/>	<input type="checkbox"/>	<input type="checkbox"/>	<input type="checkbox"/>	<input type="checkbox"/>
3.	<input type="checkbox"/>	<input type="checkbox"/>	<input type="checkbox"/>	<input type="checkbox"/>	<input type="checkbox"/>
4.	<input type="checkbox"/>	<input type="checkbox"/>	<input type="checkbox"/>	<input type="checkbox"/>	<input type="checkbox"/>

GEO IK-1 D-S001



05

IV. Zadaci dopunjavanja i kratkih odgovora

U sljedećim zadacima upišite pojmove koji nedostaju.
Odgovori se upisuju samo u ovu ispitnu knjižicu.
Ne popunjavajte prostor za bodovanje.

37. Koje je godišnje doba 21. svibnja u Canberri?

0

2

bod

38. Zemlja je dogovorno podijeljena na _____

vremenske zone po _____ stupnjeva

geografske dužine.

0

2

4

bod

39. Trgovinski deficit bilježi država u kojoj je vrijednost uvoza

_____ od vrijednosti izvoza.

0

2

bod

40. Ukupno smanjenje emisije stakleničkih plinova za 5% u razdoblju od 2008. do 2012.

godine dogovoreno je na konvenciji u gradu _____.

0


2

bod

GEO IK-1 D-S001



02

<p>41. Proces društvene i gospodarske tranzicije u kavkaskim državama usporio je rat za područje Gorskoga Karabaha između država _____ i _____.</p>	<p>0 <input type="checkbox"/></p> <p>2 <input type="checkbox"/></p> <p>4 <input type="checkbox"/></p> <p>bod</p>
<p>42. Koja je vrsta prometa, uz zračni i pomorski, najviše utjecala na proces globalizacije svjetskoga gospodarstva?</p> <p>_____</p>	<p>0 <input type="checkbox"/></p> <p>2 <input type="checkbox"/></p> <p>bod</p>
<p>43. Koji je kulturni areal najviše utjecao na oblik teritorija Hrvatske kroz povijest?</p> <p>_____</p>	<p>0 <input type="checkbox"/></p> <p>2 <input type="checkbox"/></p> <p>bod</p>
<p>44. Koji je park prirode u Hrvatskoj smješten najjužnije?</p> <p>_____</p>	<p>0 <input type="checkbox"/></p> <p>2 <input type="checkbox"/></p> <p>bod</p>
<p>GEO IK-1 D-S001</p>	 <p>02</p>

V. Zadaci dopunjavanja i kratkih odgovora

U sljedećim zadacima dopunite rečenice upisivanjem pojmova koji nedostaju i upišite u kartu tražene brojeve i oznake.

U zadacima s računanjem potrebno je prikazati i postupak.

Ne popunjavajte prostor za bodovanje.

- 45.** Izračunajte u koliko sati po pojasnome vremenu zrakoplov slijeće u New York ako je poletio iz Beča u 8 sati, a let traje 7 sati. Beč se nalazi na 17° i.g.d., a New York na 74° z.g.d.

Prostor za računanje:

Zrakoplov u New York slijeće u _____ sati po pojasnome vremenu.

0

2

bod

- 46.** Izračunajte srednju dnevnu temperaturu zraka ako je izmjerena temperatura:

u 7 sati 6°C
u 14 sati 14°C
u 21 sat 4°C .

Prostor za računanje:

Srednja dnevna temperatura zraka iznosi _____.

0

2

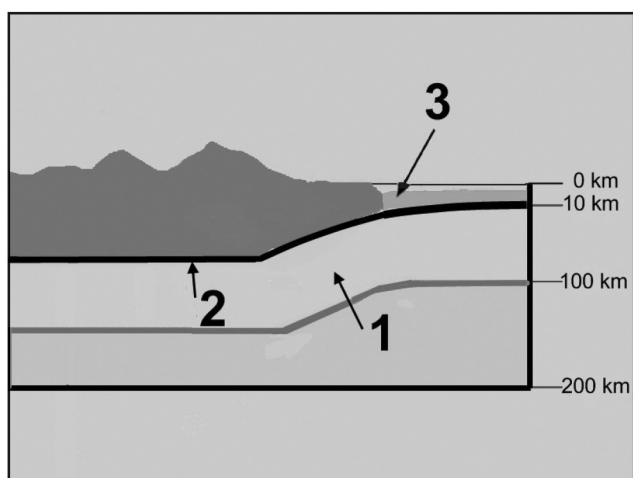
bod

GEO IK-2 D-S001



02

47. Uz brojeve 1, 2 i 3 upišite nazive slojeva koji čine litosferu.



47.1. 1 _____

47.2. 2 _____

47.3. 3 _____

0

2

bod

0

2

bod

0

2

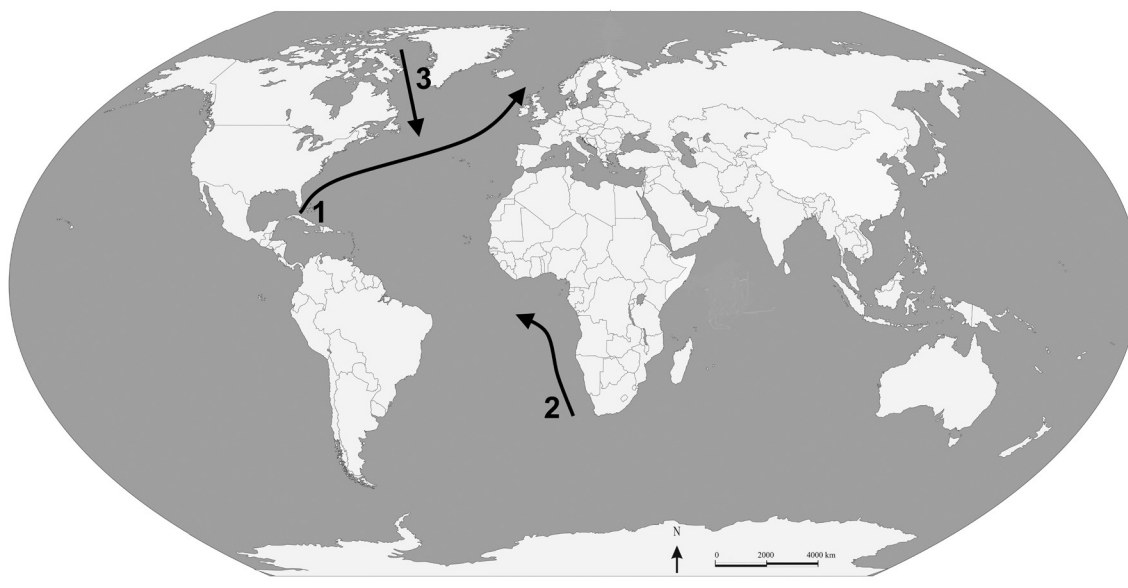
bod

GEO IK-2 D-S001



02

48. Ispod priložene karte napišite nazive morskih struja označenih brojevima 1, 2 i 3 te upišite je li topla ili hladna.



	Broj na karti	Naziv struje	Topla ili hladna
48.1.	1		
48.2.	2		
48.3.	3		

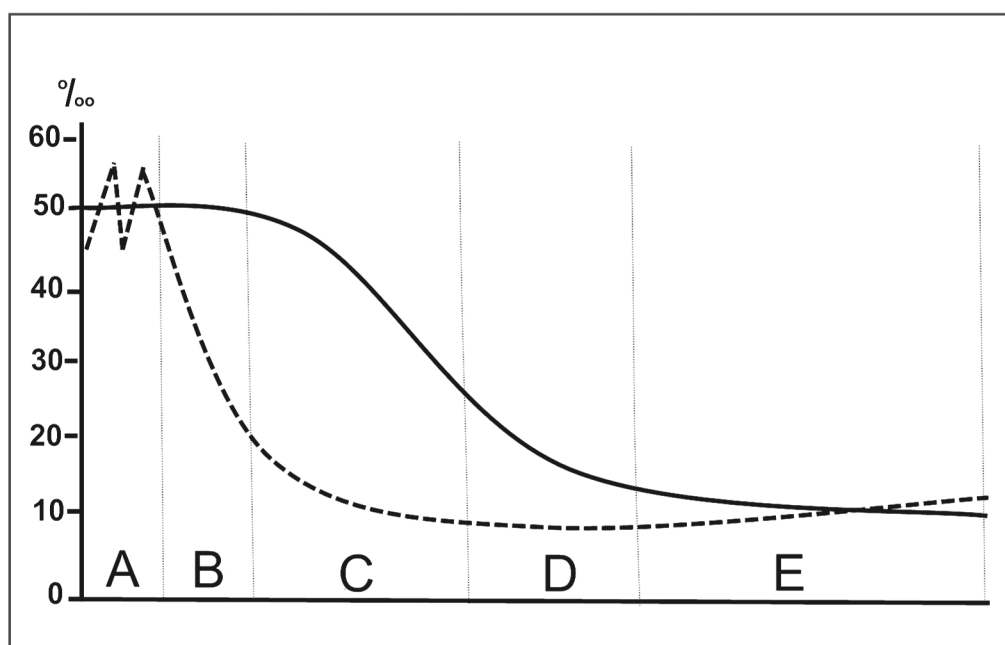
0	<input type="checkbox"/>
2	<input type="checkbox"/>
bod	
0	<input type="checkbox"/>
2	<input type="checkbox"/>
bod	
0	<input type="checkbox"/>
2	<input type="checkbox"/>
bod	

GEO IK-2 D-S001



02

49. Uz navedene države upišite odgovarajuće slovo s grafikona demografske tranzicije.



49.1. Albanija _____

49.2. Angola _____

49.3. Finska _____

0

2

bod

0

2

bod

0

2

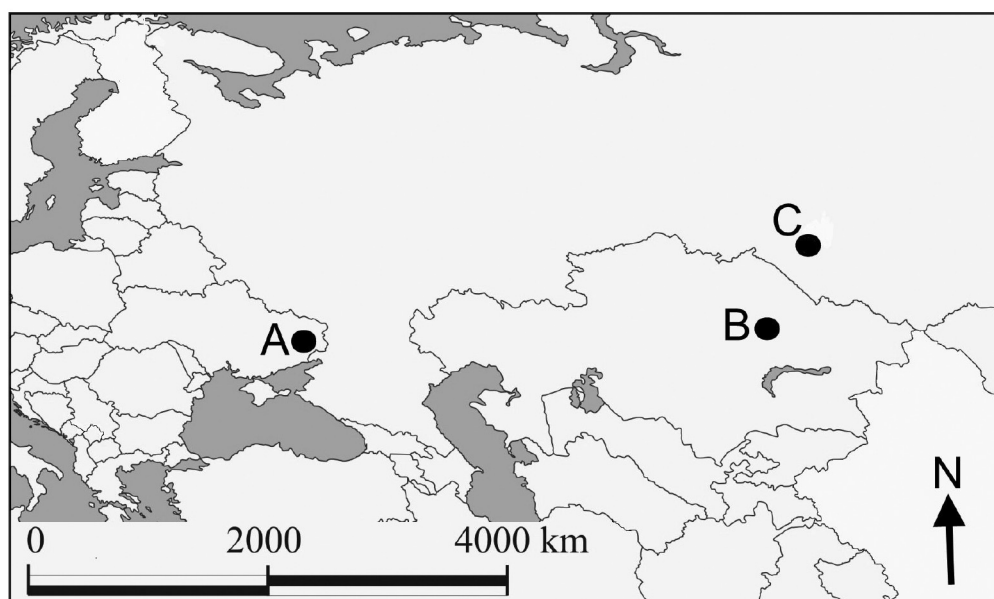
bod

GEO IK-2 D-S001



02

50. Ispod priložene karte napišite nazive industrijskih regija označenih slovima A, B i C te ime države u kojoj se ta regija danas nalazi.



	Slovo na karti	Naziv regije	Država u kojoj se danas nalazi
50.1.	A		
50.2.	B		
50.3.	C		

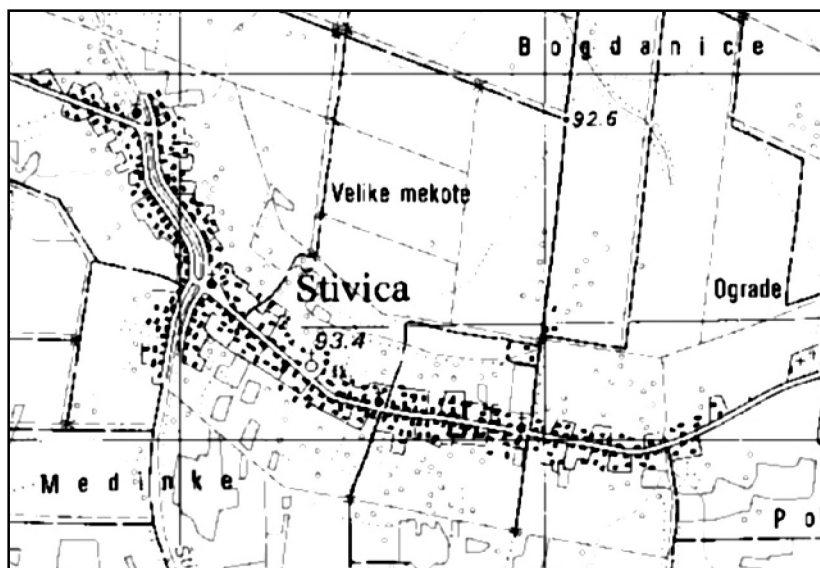
0	<input type="checkbox"/>
2	<input type="checkbox"/>
bod	
0	<input type="checkbox"/>
2	<input type="checkbox"/>
bod	
0	<input type="checkbox"/>
2	<input type="checkbox"/>
bod	

GEO IK-2 D-S001



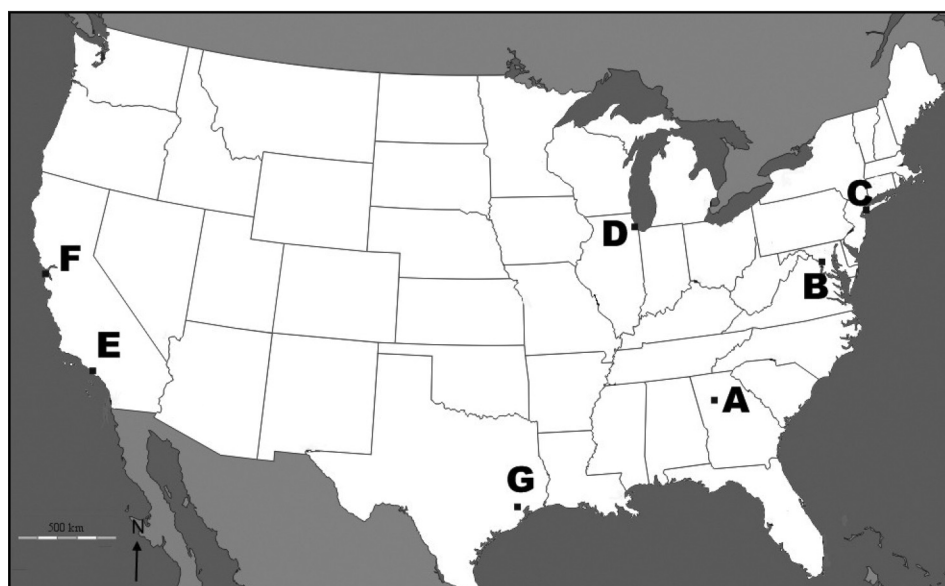
02

51. Koji tip seoskoga naselja s obzirom na oblik prikazuje ovaj crtež?



0	<input type="checkbox"/>
2	<input type="checkbox"/>
bod	

52. Na priloženoj tematskoj karti Sjedinjenih Američkih Država označene su neke od najprometnijih zračnih luka.



prvoga desetljeća 21. stoljeća označena je slovom _____.

Ta se luka nalazi u gradu _____.

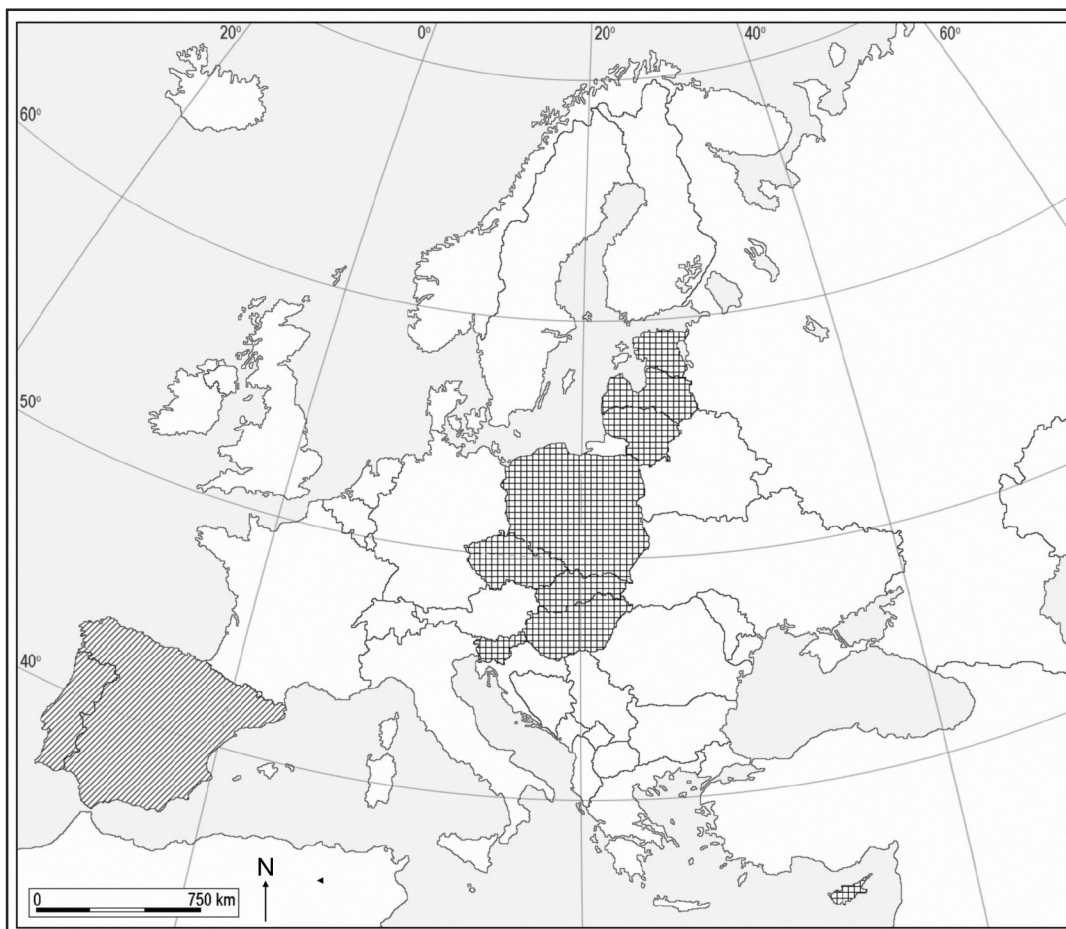
0	<input type="checkbox"/>
1	<input type="checkbox"/>
2	<input type="checkbox"/>
bod	

GEO IK-2 D-S001



02

53. Na priloženoj geografskoj karti Europe kvadratićima su označene države koje su 2004. godine postale punopravne članice Europske Unije.



53.1. Od država označenih na karti kvadratićima većinsko ugrofinsko stanovništvo imaju _____ i _____.

53.2. Države označene kosim crtama pristupile su Europskoj Uniji _____ godine.

0	<input type="checkbox"/>
1	<input type="checkbox"/>
2	<input type="checkbox"/>
bod	

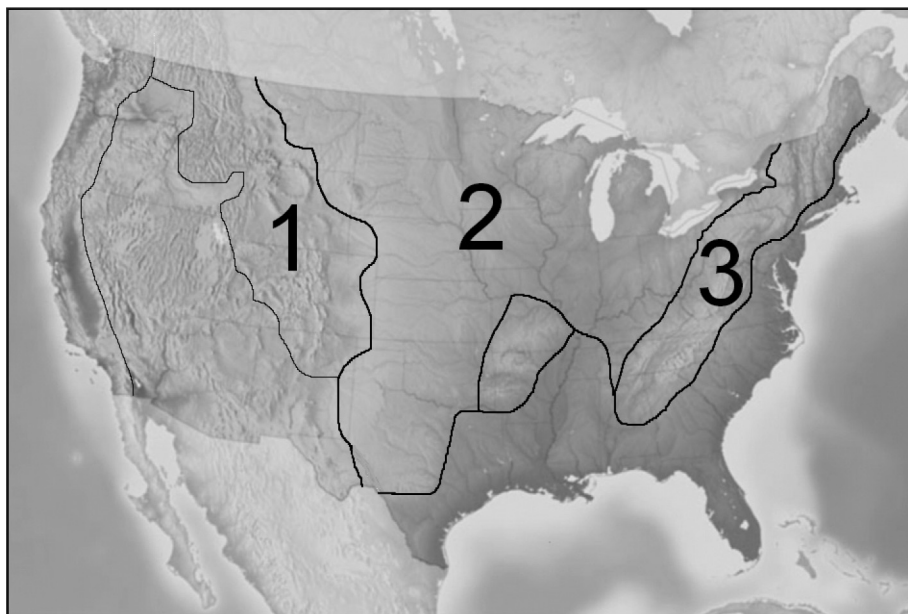
0	<input type="checkbox"/>
2	<input type="checkbox"/>
bod	

GEO IK-2 D-S001



02

54. Pozorno proučite priloženu tematsku kartu.



54.1. Prirodna regija s najstarijim stijenama označena je brojem _____.

54.2. Naziv te regije je _____.

0
2

bod

0
2

bod

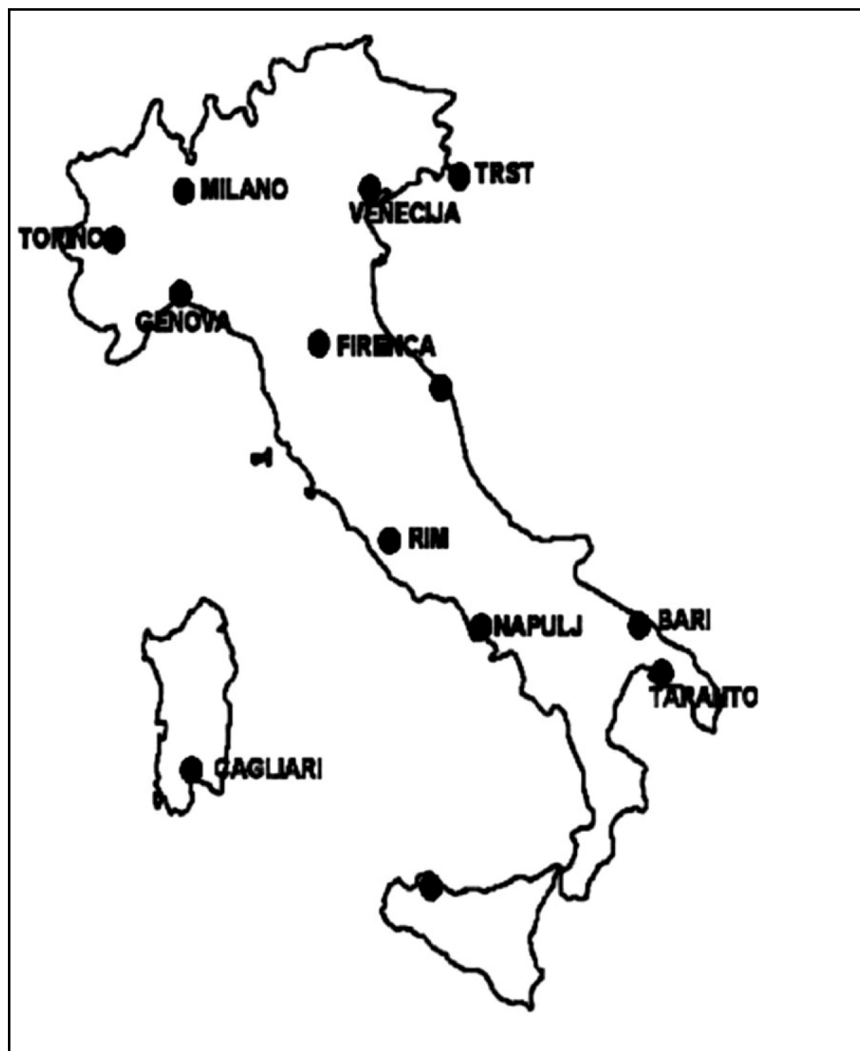
GEO IK-2 D-S001



02

Geografija

55. Priložena je karta Italije.



55.1. Crtama povežite gradove koji čine talijanski industrijski trokut.

55.2. Zaokružite pomorsku luku koja nema vlastito nacionalno zaleđe.

55.3. Uz kružić upišite ime najvažnijega središta na Siciliji.

0
2
bod

0
2
bod

0
2
bod

GEO IK-2 D-S001



02

56. Odgovorite na pitanja u tablici ispod slike, a u priloženu slijepu kartu Afrike upišite tražene brojeve.



	Pitanje	Odgovor	Označite tu državu na karti brojem
56.1.	Koja afrička država ima najveći BDP?		1
56.2.	Koja afrička država ima najveći broj stanovnika?		2
56.3.	Kojoj je afričkoj državi glavni grad Dodoma?		3

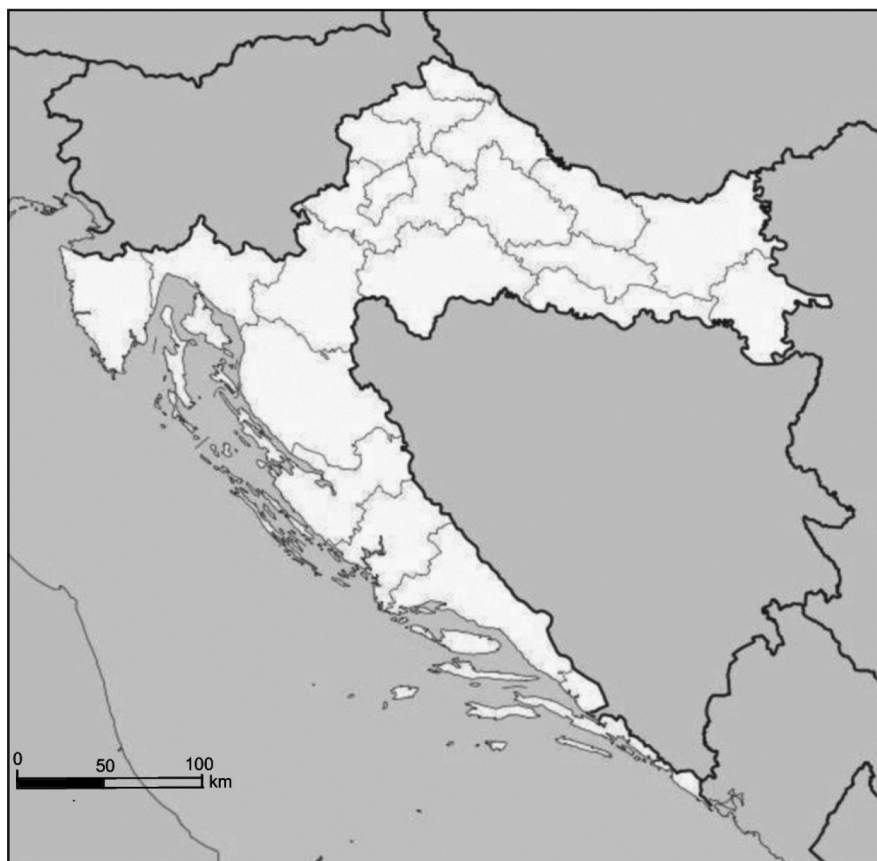
0	<input type="checkbox"/>
2	<input type="checkbox"/>
bod	
0	<input type="checkbox"/>
2	<input type="checkbox"/>
bod	
0	<input type="checkbox"/>
2	<input type="checkbox"/>
bod	

GEO IK-2 D-S001



02

57. Sljedeće zadatke riješite upisivanjem traženih brojeva u kartu županija Republike Hrvatske.



57.1. Upišite broj **1** u županiju s najvećim brojem stanovnika (osim Grada Zagreba).

57.2. Upišite broj **2** u najgušće naseljenu županiju (osim Grada Zagreba).

57.3. Upišite broj **3** u najrjeđe naseljenu županiju.

0
2
bod

0
2
bod

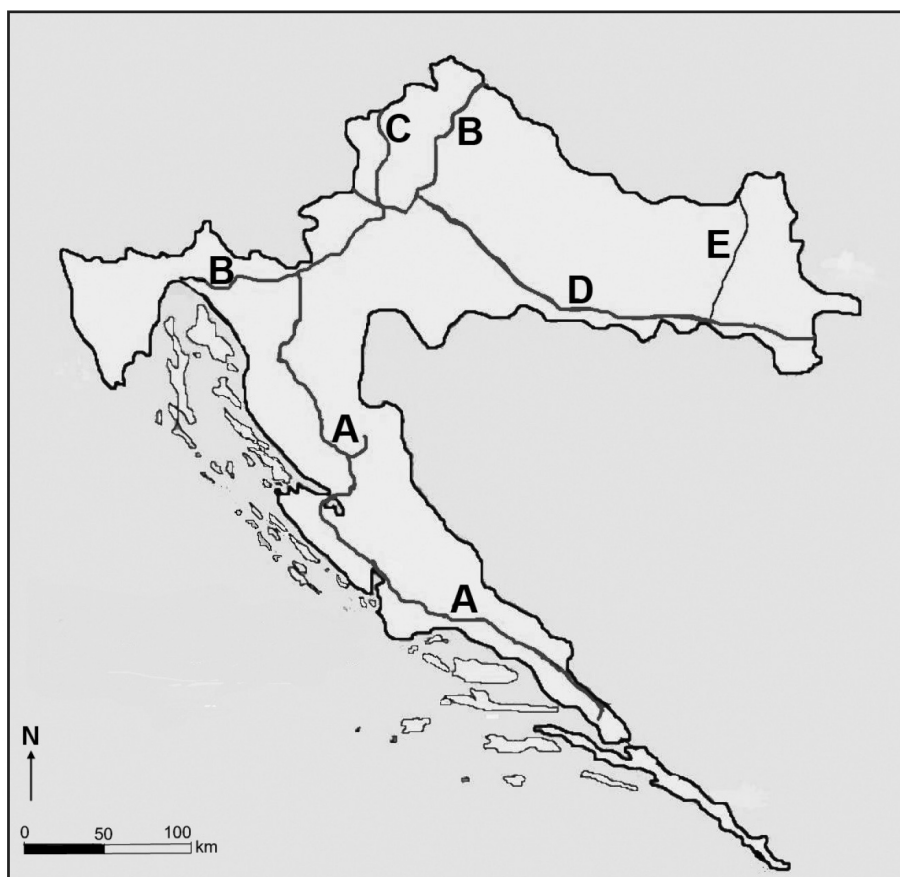
0
2
bod

GEO IK-2 D-S001



02

58. Uz opise i nazive prometnih pravaca upišite odgovarajuće slovo s priložene geografske karte.



58.1. Pyhrnski pravac _____

58.2. dio koridora V.b _____

58.3. najvažniji longitudinalni pravac _____

0

2

bod

0

2

bod

0

2

bod

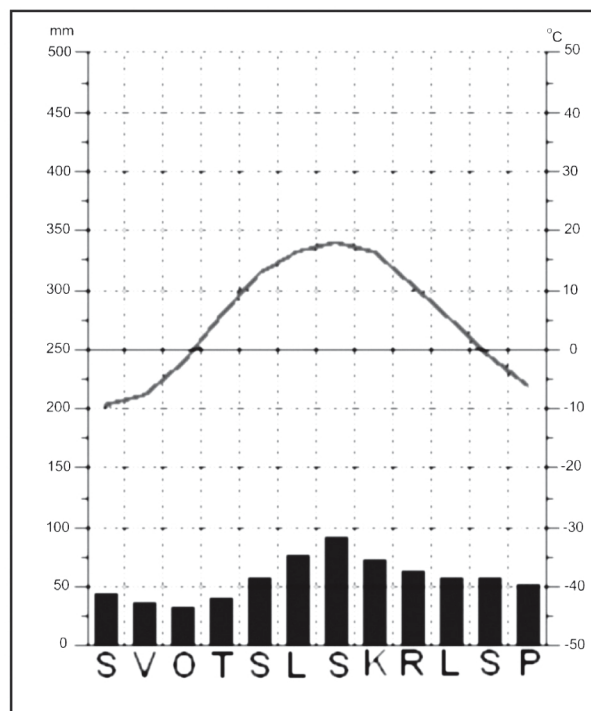
GEO IK-2 D-S001



02

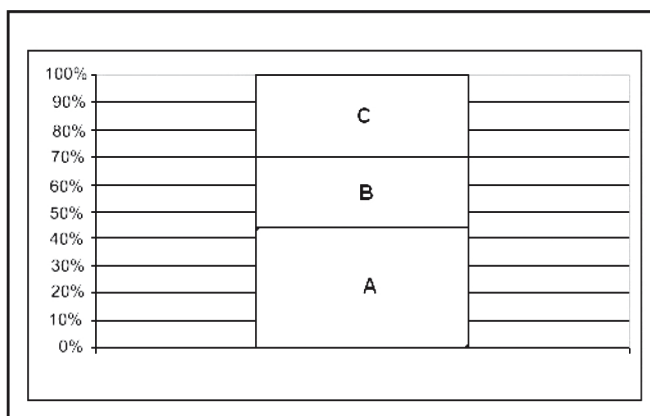
59. Na priloženome klimatskome dijagramu prikazan je

_____ tip klime.



0
2
bod

60. Na grafikonu je prikazan udio aktivnoga, uzdržavanoga i umirovljenoga stanovništva u Hrvatskoj 2001. godine.



Kojim je slovom na grafikonu prikazan udio uzdržavanoga stanovništva? _____

0
2
bod

GEO IK-2 D-S001



02



Visoka poslovna
škola Zagreb

Ulica grada Vukovara 68

Stručni studij

Marketinga i komunikacija

s dva usmjerenja:

Manager marketinga i Manager komunikacija

Trajanje studija: 3 godine, 180 ECTS bodova
Akademski naziv: stručni prvostupnik/prvostupnica
(baccalaureus/baccalaurea)
marketinga i komunikacija

Mogućnost studiranja u statusu redovnog ili izvanrednog studenta.

Cijena školarine 19.950 kuna + troškovi upisnine.

Plativo do 10 obroka!

Mogućnost plaćanja kreditnim karticama:

American Express do 60 rata (12 rata beskamatno)!

Diners Club do 60 Rata (6 rata beskamatno)!

MasterCard, Visa!

Prijave i upisni rokovi za Ak.god. 2011./2012.:

1. upisni rok - prijave do 13.5., upisi 18.5. i 19.5.2011.
2. upisni rok - prijave do 15.7., upisi 18.7. i 19.7.2011.
3. upisni rok - prijave do 10.9., upisi 15.9. i 16.9.2011.

Kontakt:

01 6310-888 • 01 6310-889 • 091 444-58-11 • www.vpsz.hr • vpsz@vpsz.hr

Ulica grada Vukovara 68, 10 000 Zagreb, Hrvatska




Najtemeljitija priprema ZA MATURU



Knjižare **Školske knjige** u vašem gradu!

- ZAGREB • KARLOVAC • GOSPIĆ • RIJEKA • PULA • SINJ
- SPLIT • METKOVIĆ • DUBROVNIK • VARAŽDIN • ČAKOVEC
- SISAK • POŽEGA • OSIJEK • VINKOVCI • VUKOVAR



Jelena Bekić
Ivana Skvrce Kramarić

TALIJSKI JEZIK
NA DRŽAVNOJ Maturi
priručnik za pripremu ispita
državne mature iz talijanskog jezika

RAZINA A2
RAZINA B1



Nina Karković

FRANCUSKI JEZIK
NA DRŽAVNOJ Maturi
priručnik za pripremu ispita
državne mature iz francuskog jezika


RAZINA A2
RAZINA B1



Stephen Hindlaugh
Melita Jurković
Brankica Bošnjak Terzić

ENGLESKI JEZIK
NA DRŽAVNOJ Maturi
priručnik za pripremu ispita
državne mature iz engleskog jezika

RAZINA A2/B1



Irena Horvatić Čajko
Irena Lasić

NJEMAČKI JEZIK
NA DRŽAVNOJ Maturi
priručnik za pripremu ispita
državne mature iz njemačkog jezika

RAZINA B2



RAZINA A2



Ljubica Maljković
Johanna Gregetz

NJEMAČKI JEZIK
NA DRŽAVNOJ Maturi
priručnik za pripremu ispita
državne mature
iz njemačkog jezika

Školska knjiga, d.d.

Masarykova 28, 10000 Zagreb
tel. 01/6394 055, 01/4830 493

www.skolskajniga.hr



Baš onako kako želim!

Svi materijali usklađeni s Ispitnim katalogom NCVVO-a za državnu maturu

Priručnici za učenike gimnazija, strukovnih i umjetničkih škola, prema specifičnim zahtjevima državne mature
Za višu i osnovnu razinu ispita!

Dunja Nöthig Hus
Mirjana Mazalin Zlonoga

KEMIJA
NA DRŽAVNOJ Maturi

priručnik za pripremu ispita
državne mature iz kemije

Ružica Vuk
Suzana Nebeski Hostić

GEOGRAFIJA
NA DRŽAVNOJ Maturi

priručnik za pripremu ispita
državne mature iz geografije

Kristina Rismondo
Sanja Nejašmić

LIKOVNA UMJETNOST
NA DRŽAVNOJ Maturi

priručnik za pripremu ispita
državne mature iz likovne umjetnosti

Karolina Brleković
Jelena Noskov

MATEMATIKA
NA DRŽAVNOJ Maturi

priručnik za pripremu ispita državne
mature iz matematike

- osnovna razina (B)
- viša razina (A)

Sanja Mikulić
Mišo Rašan
Dalibor Sumpor

BIOLOGIJA
NA DRŽAVNOJ Maturi

priručnik za pripremu ispita
državne mature iz biologije

Dubravka Bouša
Marija Gazzari
Žarko Gazzari

HRVATSKI JEZIK
NA DRŽAVNOJ Maturi

priručnik za pripremu ispita
državne mature iz hrvatskog
jezika

Dubravka Bouša
Marija Gazzari
Žarko Gazzari

ESEJ ZA 5...

i drugi oblici pisanih uradaka
(s vježbenicom) za pripremu ispita
iz hrvatskoga jezika
na državnoj maturi

Natalija Palčić
Marijana Švenda Lekić
Marija Mešić Škorić
Melita Todorović

PiG

NA DRŽAVNOJ Maturi
priručnik za pripremu ispita
državne mature
iz politike i gospodarstva

Antonia Božić
Goran Božić

FIZIKA

NA DRŽAVNOJ Maturi
priručnik za pripremu ispita
državne mature iz fizike

Miroslav Šašić

POVIJEST
NA DRŽAVNOJ Maturi

priručnik za pripremu ispita
državne mature iz povijesti

www.drzavnamatura.com